

HISTOIRE DU QUÉBEC ET DU CANADA

DES PREMIÈRES NATIONS À L'UNION DU HAUT ET DU BAS CANADA

HIS-4016-2

PRÉTEST – FORME B

QUESTIONNAIRE
ET
CAHIER DE RÉPONSES

NOM: _____

CENTRE: _____

COMMISSION SCOLAIRE: _____

DATE DE PASSATION: _____

1. Trois grandes familles autochtones occupent le nord-est de l'Amérique du Nord à l'arrivée des Européens.

Donnez trois caractéristiques du mode de vie des familles algonquiennes.

- A) La chasse
- B) Le matriarcat
- C) Le nomadisme
- D) Le patriarcat
- E) La sédentarité

Réponse : _____

2. Parmi les énoncés suivants, lesquels caractérisent les causes de ces grandes explorations?

- A) La recherche de sources d'approvisionnement en or.
- B) La recherche d'un contact avec de nouvelles cultures.
- C) Le contrôle de la Méditerranée par les Portugais et les Espagnols.
- D) Le goût de l'aventure alimenté par les nouvelles techniques de navigation.
- E) La nécessité de trouver une route directe vers l'Orient.

Réponse: _____

3. Quels énoncés, parmi ceux qui vous sont proposés, décrivent les conséquences du commerce des fourrures pour les Amérindiens?

- 1. Les Amérindiens deviennent dépendants des produits européens.
- 2. Les Amérindiens renforcent leur culture au contact des Européens.
- 3. Les Amérindiens s'enrichissent grâce au commerce des fourrures.
- 4. Les Amérindiens sont victimes d'épidémies au contact des missionnaires.
- 5. Les Amérindiens voient leur organisation sociale bouleversée.

- A) 1 et 3
- B) 1 et 5
- C) 2 et 4
- D) 3 et 4

Réponse: _____

4. Jean Talon prend des mesures pour essayer de régler le problème du manque de population en Nouvelle-France.

Parmi les énoncés suivants, quelles sont les mesures adoptées par Talon?

1. La venue de colons de Nouvelle-Angleterre
2. La venue des filles du roi
3. Les allocations aux familles nombreuses
4. Les crédits d'impôts
5. Les subventions aux compagnies françaises

- A) 1 et 2
- B) 1 et 5
- C) 2 et 3
- D) 3 et 5

Réponse: _____

5. L'intendant Talon développe l'agriculture, favorise l'industrie et établit un commerce triangulaire. En somme, il tente de diversifier l'économie de la Nouvelle-France.

Quel objectif poursuit-il ?

- A) Il désire encourager les investissements étrangers.
- B) Il désire que la colonie concurrence la Nouvelle-Angleterre.
- C) Il désire que la colonie soit autosuffisante.
- D) Il désire s'enrichir grâce au commerce des fourrures.

Réponse : _____

6. En quoi le peuplement a-t-il été favorisé par l'établissement du système seigneurial ?

- A) Il encourage les mariages précoces et les familles nombreuses.
- B) Il oblige les censitaires à payer des droits à leur seigneur.
- C) Il oblige les seigneurs à établir des agriculteurs sur leurs terres.
- D) Il soutient une économie basée sur la traite des fourrures.

Réponse : _____

7. Parmi les énoncés suivants, lesquels représentent des causes de l'échec de la tentative de diversification économique sous Jean Talon ?

1. La baisse de rentabilité des fourrures.
2. La concurrence des produits de la Nouvelle-Angleterre.
3. La destruction de la Huronie par les Iroquois.
4. La faillite des forges de Saint-Maurice.
5. La politique mercantiliste de la France.

- A) 1 et 2
B) 2 et 4
C) 2 et 5
D) 3 et 4

Réponse : _____

8. Dans chacun des ensembles suivants, quelle caractéristique permet de décrire la colonie canadienne du Saint-Laurent entre 1660 et 1760?

Démographique

- | |
|--|
| <ol style="list-style-type: none">1. La Nouvelle-France a connu une chute de sa population à cause des guerres iroquoises.2. La population de la Nouvelle-France est restée stable pendant toute cette période.3. La population de la Nouvelle-France a été multipliée par sept pendant cette période. |
|--|

Politique

- | |
|--|
| <ol style="list-style-type: none">4. Les compagnies gardent l'administration de la colonie.5. On assiste à l'implantation d'une monarchie absolue.6. Les décisions sont prises par la chambre d'assemblée. |
|--|

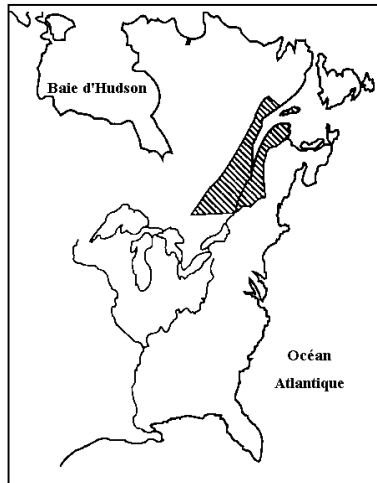
Économique

- | |
|---|
| <ol style="list-style-type: none">7. Le bois remplace progressivement la fourrure pendant cette période.8. La politique mercantiliste de la France fait échec aux efforts de diversification.9. L'économie de la Nouvelle-France est dépendante de celle de la Nouvelle-Angleterre. |
|---|

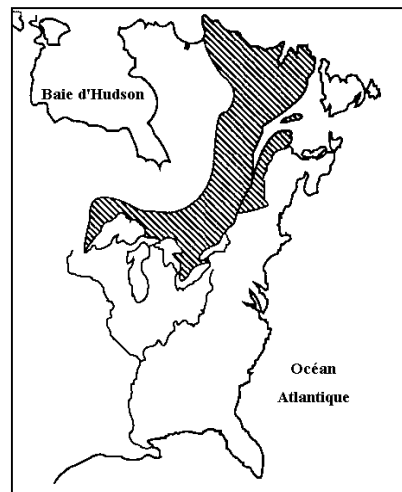
Réponse : _____

9. La Proclamation royale crée la « Province of Quebec ». Quelle carte correspond au territoire de la « Province of Quebec » au lendemain de la Proclamation royale?

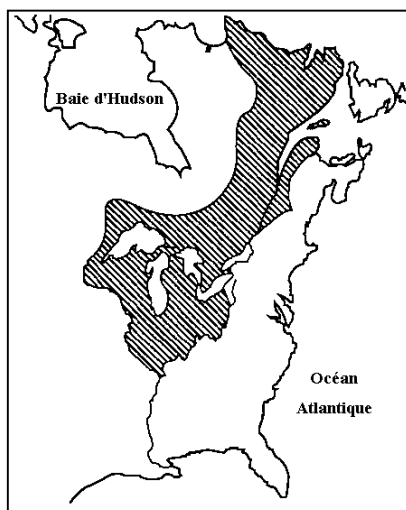
A)



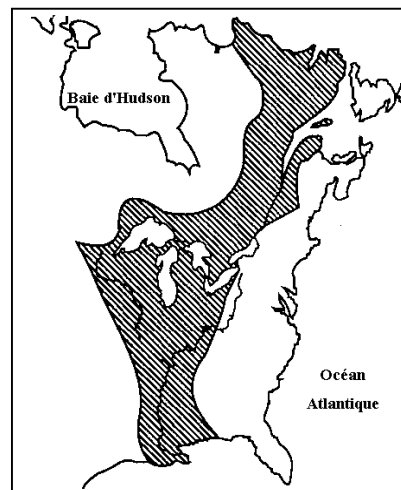
B)



C)



D)



10. Lequel de ces ensembles permet d'établir les causes des affrontements entre la France et l'Angleterre en Amérique au 18^e siècle ?

A) Le contrôle du commerce des fourrures
La définition du territoire
L'arrivée des Loyalistes

B) La politique coloniale française
Le libre exercice de la religion
Les relations entre les Anglais et les Amérindiens

C) Le contrôle du commerce des fourrures
La définition du territoire
Le contrôle des pêcheries

D) Les relations entre les Anglais et les Amérindiens
Le libre exercice de la religion
L'arrivée des Loyalistes

Réponse: _____

11. Lesquels parmi les énoncés suivants représentent des conséquences de la Révolution américaine?

- A) L'arrivée des Loyalistes dans la « Province of Quebec ».
- B) L'augmentation du nombre d'anglophones dans la « Province of Quebec ».
- C) L'union du Haut-Canada et du Bas-Canada.
- D) La reconnaissance des lois civiles françaises.
- E) L'abolition du serment du Test.

Réponse : _____

12. En 1774, l'Acte de Québec remplace la Proclamation royale. Parmi les énoncés suivants, lesquels représentent les motivations qui ont poussé les autorités britanniques à effectuer ce changement.

- A) L'agitation dans les 13 colonies
- B) L'arrivée des Loyalistes
- C) L'assurance de la fidélité des Canadiens
- D) La satisfaction des marchands anglais
- E) Le boycottage des produits britanniques

Réponse : _____

13. Dans chacun des ensembles suivants, quelle caractéristique permet de décrire la province de Québec au lendemain de la révolution américaine ?

Territorial

1.	Perte du sud des Grands Lacs et de l'Ohio
2.	Territoire limité à la vallée du Saint-Laurent
3.	Union du Haut-Canada et du Bas-Canada

Économique

4.	Signature d'un traité de réciprocité avec les États-Unis
5.	Développement des transports ferroviaires
6.	Déplacement du commerce des fourrures vers le Nord-Ouest

Démographique

7.	Population d'origine britannique majoritaire
8.	Émigration massive vers les États-Unis
9.	Augmentation du nombre des anglophones

Réponse : _____

14. À quelle zone de la ligne du temps suivante correspond l'Acte constitutionnel ?

	A	B	C	D	E
1690	1740	1790	1840	1890	

Réponse : _____

15. Parmi les énoncés suivants, lesquels caractérisent l'Acte constitutionnel?

- A) Le Conseil exécutif est choisi parmi les députés élus.
- B) Le gouverneur est élu par la population.
- C) Le régime seigneurial est aboli.
- D) Le territoire est divisé en deux parties.
- E) Les lois civiles françaises sont en vigueur dans le Bas-Canada.

Réponse: _____

16. Entre 1820 et 1840, une grave crise agricole a sévi au Bas-Canada.

Parmi les énoncés suivants, lequel représente une conséquence de cette crise ?

- A) L'exode des populations rurales vers les villes.
- B) La mise au point de techniques agricoles.
- C) La signature d'un traité de libre échange avec les Etats-Unis.
- D) Le surpeuplement des seigneuries.

Réponse : _____

17. Quel énoncé, parmi les suivants, représente un changement politique apporté par l'Acte d'Union?

- A) L'abandon du libre-échange avec les États-Unis
- B) L'application des lois civiles françaises au Canada-Ouest.
- C) Un gouverneur nommé par Londres
- D) Une seule Chambre d'assemblée

Réponse: _____

18. Sous l'Acte d'union, on assiste à des changements économiques importants. Parmi les énoncés suivants, lequel représente un changement économique à la suite de l'Acte d'union ?

- A) La signature d'un traité de libre-échange avec les États-Unis.
- B) Le blocus maritime imposé par Napoléon.
- C) Le développement du commerce triangulaire.
- D) Le retour au protectionnisme de la Grande-Bretagne.

Réponse : _____

19. Quel texte décrit la société canadienne sous l'Acte d'Union ?

A) Pour s'assurer l'appui du clergé catholique et se faire respecter par le peuple, le gouverneur applique une politique de conciliation envers les Canadiens. Il espère ainsi amener les Canadiens à s'assimiler d'eux-mêmes aux Anglais.

B) Le gouverneur est préoccupé par l'attitude des Canadiens en cas de guerre entre les Treize Colonies et l'Angleterre. Pour obtenir leur appui, il propose une politique de générosité à leur égard.

C) Le gouverneur demande à l'Assemblée de lui accorder des subventions prises dans le surplus des taxes. L'Assemblée accepte à conditions d'avoir droit de regard sur les dépenses du gouvernement, ce que le gouverneur refuse.

D) Les Réformistes remportent les deux-tiers des sièges de la Chambre. Le gouverneur les invite à former le Conseil exécutif. Les Réformistes se voient donc placés à la tête d'un gouvernement responsable.

Réponse : _____

20. Les ensembles suivants caractérisent la société canadienne entre l'Acte constitutionnel et l'Acte d'Union.

Placez-les en ordre chronologique

A) Une seule Chambre d'assemblée représente la population.
Les réformistes obtiennent la responsabilité ministérielle.

B) Chacun des deux Canadas possède sa propre Chambre d'assemblée.
Les Canadiens votent pour la première fois.

C) Napoléon impose un blocus à la Grande-Bretagne.
La fourrure est remplacée par le bois comme moteur économique.

D) Londres envoie Lord Durham pour faire enquête.
Durham propose d'unir les deux Canadas en un seul.

Réponse: _____